



Rewarding Learning

ADVANCED SUBSIDIARY (AS)
General Certificate of Education
2018

Uimhir Lárionaid

--	--	--	--	--

Uimhir Iarrthóra

--	--	--	--	--

Tíreolaíocht

Aonad Measúnaithe AS 3

ag measúnú

Scileanna agus Teicnící Saothar Allamuigh
sa Tíreolaíocht



SGG31

[SGG31]

DÉARDAOIN 31 BEALTAINE, MAIDIN

AM

1 uair an chloig.

TREOIR D'IARRTHÓIRÍ

Scríobh d'Uimhir Lárionaid agus d'Uimhir Iarrthóra sna spásanna chuige sin ag barr an leathanaigh seo. Scríobh do fhreagraí sna spásanna chuige sin sa scrúdpháipéir seo.

Freagair **gach** ceist.

Tá léarscáil S.O. curtha ar fáil duit le húsáid le **Ceist 2**.

Ná scríobh do fhreagraí ar an léarscáil seo.

Ag deireadh an scrúdaithe seo ba chóir an scorán comhaid atá ar fáil a úsáid leis an tuairisc ar do shaothar allamuigh agus an tábla sonraí a cheangal go daingean den pháipéar seo. Tá dhá leathanach i gcúl an leabhráin ceisteanna agus freagraí seo atá le húsáid mar leathanaigh bhreise de réir mar is gá.

EOLAS D'IARRTHÓIRÍ

Is é 60 an marc iomlán don pháipéar seo.

Measúnófar caighdeán na cumarsáide scríofa i **gCeisteanna 1(b)(ii)** agus **2(a)(iv)**.

Léiríonn figiúirí idir lúibíní atá priontáilte ar thaobh na lámhe deise de leathanaigh na marcanna atá ag dul do gach ceist nó do gach cuid de cheist.

Don Scrúdaitheoir amháin

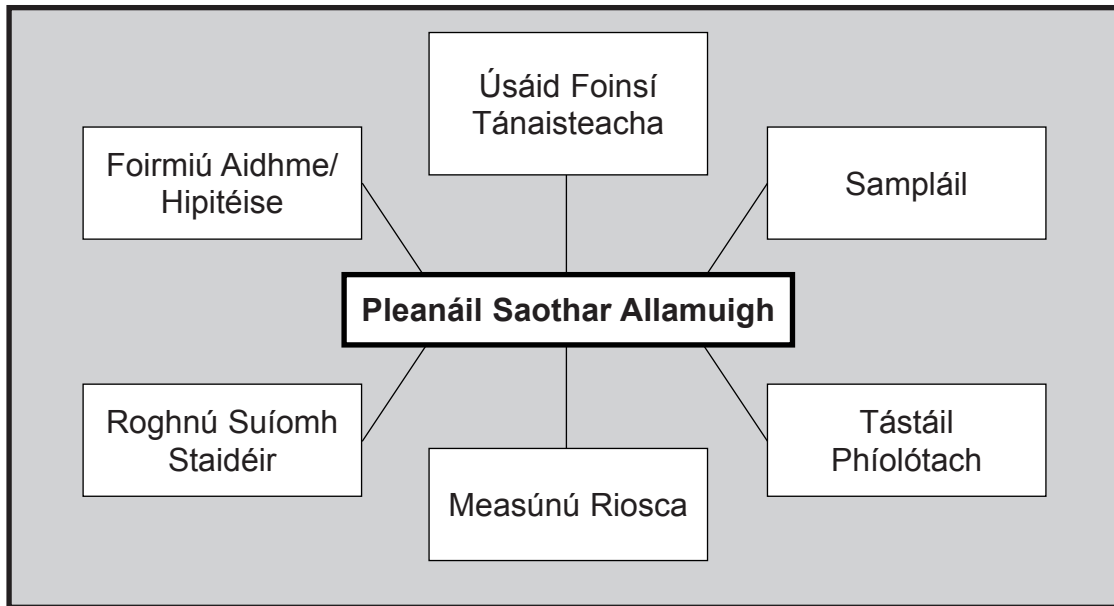
Uimhir Ceiste	Marcanna	Athmharc
1		
2		

Iomlán		
--------	--	--

Freagair **gach** ceist

Achoimre ar an tsaothar allamuigh agus tábla sonraí a cuireadh isteach. **Ag deireadh an scrúdaithe ba chóir iad seo a cheangal go daingean den pháipéar seo leis an scorán comhaid atá curtha ar fáil.**

- 1 (a) Déan staidéar ar **Áis 1A** a thaispeánann roinnt tosca tábhachtacha atá le cur san áireamh i bpleanáil saothar allamuigh.

Áis 1A

Foinse: *Príomhscrúdaitheoir*

Roghnaigh **dhá** thoisce ó **Áis 1A** agus pléigh ina iomláine an dóigh ar chuir siad le **do** pleanáil **saothair allamuigh**.

Toisc 1


[4]

Scrúdaitheoir Amháin	
Marcanna	Athmharc

(b) (i) Roghnaigh teicníc ghrafach iomchuí le cuid de na sonraí atá taispeánta i do thábla nó iad uilig a chur i láthair. Caithfidh do ghraf a bheith ábhartha d’aidhm/hipitéis do shaothair allamuigh. [7]

Scrúdaitheoir Amháin	
Marcanna	Athmharc

Teideal an Ghraif _____



LEATHANACH BÁN

(Leanann ceisteanna ar an chéad leathanach eile)

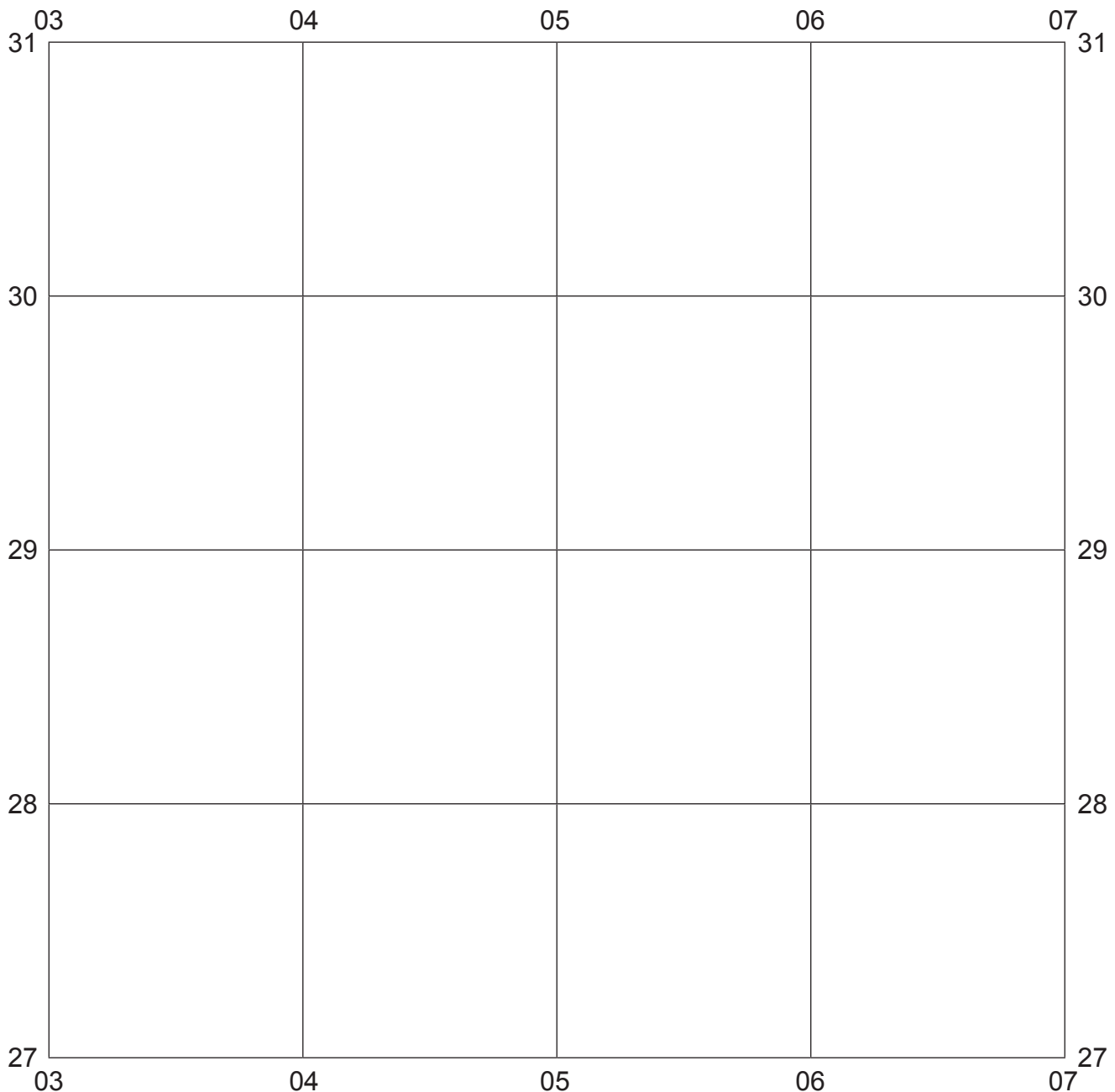
- 2 (a) (i) Déan staidéar ar **Áis 2A** (amharc ar an iatán), léarscáil na Suirbhéireachta Ordanáis a léiríonn cuid de chúrsa na hAbhann *Usk/Afon Wysg* i bPáirc Náisiúnta *Brecon Beacons*, An Bhreatain Bheag.

Bain úsáid as **Áis 2A** le sracléarscáil a tharraingt ar an eangach thíos a léiríonn an limistéar idir Oirlínte 03 agus 07 agus Tuaidhlínte 27 agus 31.

Tarraing **agus** lipéadaigh na rudaí seo a leanas **amháin**:

- Cúrsa na hAbhann *Usk/Afon Wysg* [2]
- Teorainn na Páirce Náisiúnta [1]
- Spotaíde amháin [1]
- Gníomhaíocht nó áis turasóireachta amháin [1]

Scrúdaitheoir Amháin	
Marcanna	Athmharc



LEATHANACH BÁN

(Leanann ceisteanna ar an chéad leathanach eile)

- (ii) Déan staidéar ar **Áis 2B**, tábla a chuireann sonraí báistí agus leibhéal na habhann ar fáil don Abhainn *Usk/Afon Wysg*, a ndearnadh taifeadadh orthu ag stáisiún monatóireachta i gcearnóg eangaí 0428 ar feadh tréimhse 24 uair an chloig, agus **Áis 2C** ar leathanach 11, graf páirtchomhlánaithe a léiríonn na sonraí.

Comhlánaigh **Áis 2C** ag úsáid na sonraí a chuirtear ar fáil in **Áis 2B**.

[6]

Áis 2B

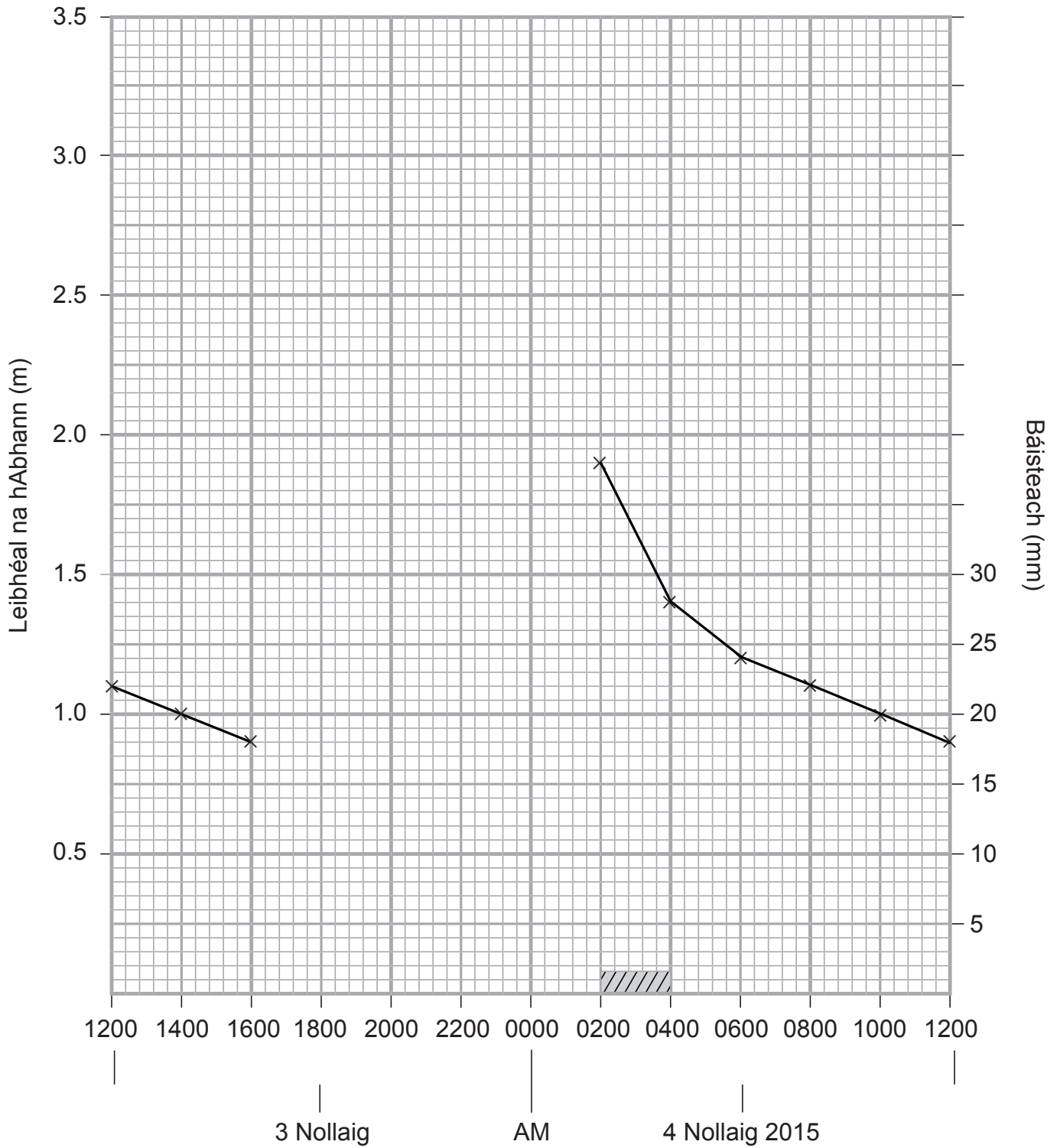
Dáta	Am (uaireanta an chloig)	Báisteach (mm)	Leibhéal na hAbhann (m)
3 Nollaig 2015	1200	0.0	1.1
	1400	0.0	1.0
	1600	2.5	0.9
	1800	23.7	0.9
	2000	26.5	2.4
	2200	8.4	3.2
4 Nollaig 2015	0000	4.5	2.5
	0200	1.5	1.9
	0400	0.0	1.4
	0600	0.0	1.2
	0800	0.0	1.1
	1000	0.0	1.0
	1200	0.0	0.9



Foinse: Príomhscrúdaitheoir

- (iii) Ríomh an raon do shonraí leibhéal na habhann atá curtha i láthair in **Áis 2B**. _____ m [1]

Áis 2C

Sonraí Báistí agus Leibhéal na hAbhann don Abhainn *Usk/Afon Wysg*



Eochair	
Báisteach	
Leibhéal na hAbhann	

LEATHANACH BÁN

(Leanann ceisteanna ar an chéad leathanach eile)

(b) Phleanáil dalta suirbhé le himscrúdú a dhéanamh ar an turasóireacht i bPáirc Náisiúnta *Brecon Beacons*. Déan Staidéar ar **Áis 2D** ar leathanach 15 a thaispeánann cuid den cheistneoir a úsáideadh do bhailiú sonraí.

(i) Agus tagairt á déanamh agat do Cheist 7 in **Áis 2D**, mínigh laige **amháin** a bhaineann leis an stíl seo de cheist.

[2]

(ii) Luaigh laige **amháin** eile a bhaineann le dearadh an cheistneora seo.

[1]


(iii) Roghnaigh toisc **amháin** ón liosta thíos agus mínigh an fáth ar gá é a chur san áireamh nuair atá an suirbhé seo á dhéanamh le bailiú sonraí iontaofa a chinntiú.

- **Suíomh an tsuirbhé**
- **Lá na seachtaine**
- **Mí na bliana**

[3]

Scrúdaitheoir Amháin	
Marcanna	Athmharc

Áis 2D



1. An é seo an chéad chuairt agat ar Pháirc Náisiúnta *Brecon Beacons*?

Is é:
Ní hé:

2. Cár thaistil tú as le cuairt a thabhairt ar Pháirc Náisiúnta *Brecon Beacons*?

3. Cé chomh fada a thaistil tú le teacht anseo?

<5 km	<input type="text"/>	25 – 35 km	<input type="text"/>
5 – 15 km	<input type="text"/>	35 – 45 km	<input type="text"/>
15 – 25 km	<input type="text"/>	>45 km	<input type="text"/>

4. Cá mhéad airgid a bhfuil súil agat a chaitheamh agus tú anseo sa pháirc?

<£150.00	<input type="text"/>	£450.00 – £599.99	<input type="text"/>
£150.00 – £299.99	<input type="text"/>	£600.00 – £850.00	<input type="text"/>
£300.00 – £449.99	<input type="text"/>	>£850.00	<input type="text"/>

5. Cé acu de na rudaí spéise nó suíomhanna mórélímh seo, má tá ceann ar bith ann, ar thug tú/a dtabharfaidh tú cuairt orthu? Cuir tic leo siúd go léir atá ábhartha.

Ionad Cuairteoirí <input type="text"/>	Músaem Mianadóireachta <i>Big Pit</i> <input type="text"/>	Muileann <i>Talgarth</i> <input type="text"/>
Ardeaglais <i>Brecon</i> <input type="text"/>	<i>National Showcaves</i> <input type="text"/>	Caisleán <i>Carreg Cennen</i> <input type="text"/>
Oibreacha Iarainn <i>Blaenavon</i> <input type="text"/>	<i>Dinefwr</i> <input type="text"/>	<i>Garwnant</i> <input type="text"/>
Drioglann Uisce Beatha <i>Penderyn</i> <input type="text"/>	Páirc Thuaithe <i>Craig-y-Nos</i> <input type="text"/>	Iarnród Sléibhe <input type="text"/>

6. Cé acu de na gníomhaíochtaí seo, má tá ceann ar bith ann, ar ghlac tú/a nglacfaidh tú páirt iontu agus tú anseo sa pháirc? Cuir tic leo siúd go léir atá ábhartha.

Réaltóireacht <input type="text"/>	Ag dul chuig bialanna <input type="text"/>	Spóirt uisce <input type="text"/>	Mótarspóirt <input type="text"/>
Siúl/fánaíocht <input type="text"/>	Rothaíocht <input type="text"/>	Siopadóireacht <input type="text"/>	Eile <input type="text"/>
Éanbhreathnú <input type="text"/>	Iascaireacht <input type="text"/>	Fámaireacht <input type="text"/>	

7. Léigh na ráitis thíos le do thoil a bhaineann le caighdeán na n-earraí agus na seirbhísí i bPáirc Náisiúnta *Brecon Beacons*. Cuir tic le gach ráiteas le do thuairim a nochtadh.

	Aontaím go mór	Aontaím	Neamhchinnte	Easaontaím	Easaontaím go mór
Luach maith ar airgead a bhí i mo lóistín.					
Tá réimse leathan de rudaí difriúla le déanamh ag teaghlaigh.					
Tá na hearraí agus na táirgí atá ar fáil sa pháirc ar archaighdeán.					
Bhí leibhéal na seirbhísí do chustaiméirí i mbialanna/caiféanna/tithe tábhairne chomh maith nó níos fearr ná mar a bhí tú ag súil leis.					
Bíonn sé éasca teacht ar eolas cuairteoirí tríd an pháirc go léir.					

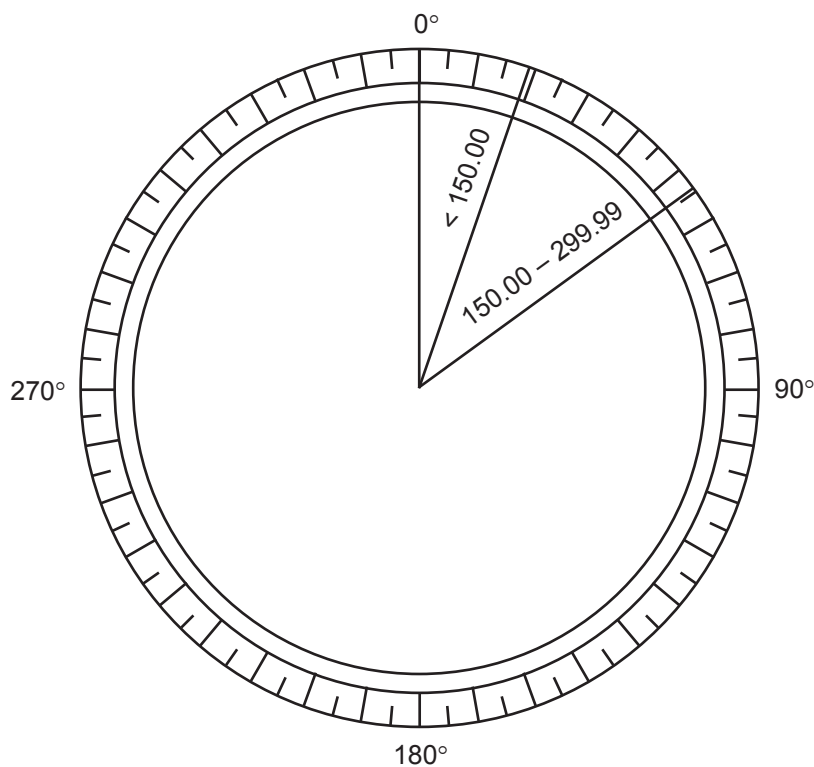
- (iv) Déan staidéar ar **Áis 2E**, a thaispeánann na torthaí a fuarthas ó Cheist 4 sa cheistneoir ó 1000 turasóir, agus **Áis 2F**, píchairt pháirtchomhlánaithe leis na sonraí seo a léiriú.

Áis 2E

Caiteachas Turasóra (£)	Líon na dTurasóirí	Céimeanna do theascóg phíchairte (°)
< 150.00	53	19
150.00 – 299.99	97	35
300.00 – 449.99	350	126
450.00 – 599.99	286	103
600.00 – 850.00	115	
> 850.00	99	

Áis 2F

Caiteachas Turasóra (£)



1. Comhlánaigh an tábla (**Áis 2E**) trí na luachanna atá ar iarraidh a ríomh. [2]
2. Agus **Áis 2E** in úsáid agat, tarraing agus lipéadaigh na ceithre theascóg atá fágtha leis an píchairt, **Áis 2F**, a chomhlánú. [4]

Scrúdaitheoir Amháin	
Marcanna	Athmharc

Cuireadh isteach ar chead chun an t-ábhar cóipchirt uile a atáirgeadh.
I gcásanna áirithe is féidir nár éirigh le CCEA teagmháil a dhéanamh le húinéirí cóipchirt agus beidh sé sásta na hadmhálacha sin a fágadh ar lár a chur ina gceart amach anseo ach é a chur ar an eolas.



Four colours should appear above; if not then please return to the invigilator.
Four colours should appear above; if not then please return to the invigilator.

ROADS AND PATHS Not necessarily rights of way

- M1 or A6(M) Motorway
- A 35 Service Area
- 7 Junction Number
- A 35 Dual carriageway
- A 30 Main road
- B 3074 Secondary road
- Narrow road with passing places
- Road under construction
- Road generally more than 4 m wide
- Road generally less than 4 m wide
- Other road, drive or track, fenced and unfenced
- Gradient: steeper than 20% (1 in 5) 14% (1 in 7) to 20% (1 in 5)
- Ferry; Ferry P - passenger only
- Path

RAILWAYS

- Multiple track } Standard gauge
- Single track } Standard gauge
- Narrow gauge or Light Rapid Transit System (LRTS) and station
- Road over; road under; level crossing
- Cutting; tunnel; embankment
- Station, open to passengers; siding

PUBLIC RIGHTS OF WAY Not shown on maps of Scotland

- Footpath
 - Bridleway
 - Byway open to all traffic
 - Restricted byway-not for use by mechanically propelled vehicles
- The representation on this map of any other road, track or path is no evidence of the existence of a right of way

OTHER PUBLIC ACCESS

- Other routes with public access
- The exact nature of the rights on these routes and the existence of any restrictions may be checked with the local highway authority. Alignments are based on the best information available
- Recreational route
 - National Trail / Long Distance Route
 - Permissive footpath } See note below
 - Permissive bridleway }
 - Footpaths and bridleways along which landowners have permitted public use but which are not rights of way. The agreement may be withdrawn.
 - Traffic-free cycle route
 - National cycle network route number - traffic free; on road

BOUNDARIES

- National
- County (England)
- Unitary Authority (UA), Metropolitan District (Met Dist), London Borough (LB) or District (Scotland & Wales are solely Unitary Authorities)
- Civil Parish (CP) (England) or Community (C) (Wales)
- National Park

HISTORICAL FEATURES

- Site of antiquity
- Site of battle (with date)
- VILLA Roman
- Castle Non-Roman
- Visible earthwork

Information provided by English Heritage for England and the Royal Commissions on the Ancient and Historical Monuments for Scotland and Wales

GENERAL FEATURES

- Gravel pit
- Sand pit
- Triangulation pillar
- Mast
- Windmill; with or without sails
- Wind pump; wind turbine
- Slopes
- Place of worship
- Current or former place of worship - with tower - with spire, minaret or dome
- Building; important building
- Glasshouse
- Youth hostel
- Bunkhouse / camping barn / other hostel
- Bus or coach station
- Lighthouse; disused lighthouse;
- Beacon
- BP Boundary post
- BS Boundary stone
- CG Cattle grid
- CH Clubhouse
- Footbridge
- MP; MS Milepost; milestone
- Mon Monument
- PO Post office
- Pol Sta Police station
- Sch School
- TH Town hall
- NTL Normal tidal limit
- W; Spr Well; spring
- Electricity transmission line
- Landfill site or slag/spoil heap

HEIGHTS AND NATURAL FEATURES

- 52 Ground survey height
 - 284 Air survey height
- Surface heights are to the nearest metre above mean sea level. Where two heights are shown, the first height is to the base of the triangulation pillar and the second (in brackets) to the highest natural point of the hill
- Vertical face/cliff
 - Boulders
 - Loose rock
 - Outcrop
 - Scree
 - Water; mud
 - Sand; sand and shingle

ACCESS LAND

- DANGER AREA Firing and test ranges in the area. Danger! Observe warning notices
- MANAGED ACCESS Access permitted within managed controls, for example, local bylaws.
- England and Wales: Access land boundary and tint, Access land in wooded area, Access information point
- Scotland: National Trust for Scotland, always open; National Trust for Scotland, limited access - observe local signs; Forestry Commission Land; Woodland Trust Land

Portrayal of access land on this map is intended as a guide to land which is normally available for access on foot, for example access land created under the Countryside and Rights of Way Act 2000, and land managed by the National Trust, Forestry Commission and Woodland Trust. In Scotland, everyone has access rights in law over most land and inland water, provided access is exercised responsibly (Land Reform (Scotland) Act 2003). This includes walking, cycling, horse-riding and water access, for recreational and educational purposes, and for crossing land or water. Access rights do not apply to motorised activities, hunting, shooting or fishing, nor if your dog is not under proper control.

TOURIST AND LEISURE INFORMATION

- Building of historic interest
- Boat trips
- Boat hire
- Cadw (Welsh heritage)
- Camp site/Caravan site
- Castle / fort
- Cathedral / Abbey
- Craft Centre
- Country park
- Cycle hire
- Cycle trail
- English Heritage property
- Fishing
- Forestry Commission visitor centre
- Garden / arboretum
- Golf course or links
- Historic Scotland
- Information centre, seasonal
- Horse riding
- Museum
- Mountain bike trail
- Nature reserve
- National Trust property
- Other tourist feature
- Parking / Park and ride, all year / seasonal
- Picnic site
- Preserved railway
- Public Convenience
- Public house/s
- Recreation / leisure / sports centre
- Slipway
- Telephone (public/ roadside assistance/ emergency)
- Theme / pleasure park
- Viewpoint
- Visitor centre
- Walks / trails
- Water activities
- World Heritage site or area

